



الوحدة الثالثة – سكان العالم

(١) السكان في العالم

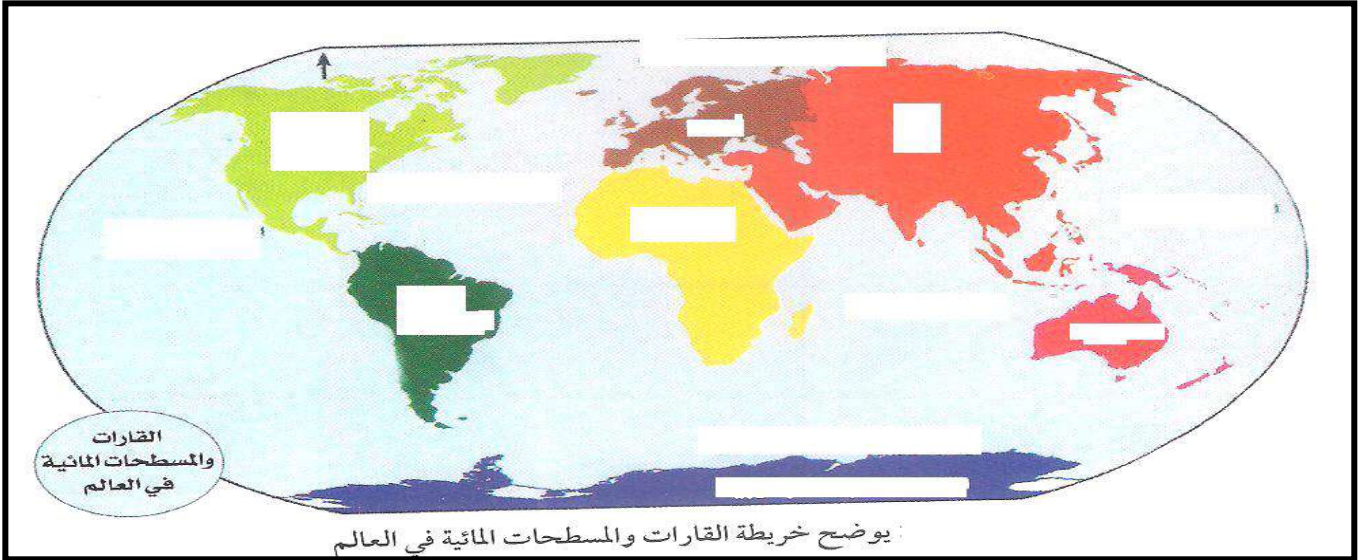
أكمل العبارات التالية بالكلمة المناسبة:

١. بلغ عدد سكان العالم عام ٢٠٠٣ م حوالي..... نسمة

٢. يتوزع سكان العالم علي قارات العالم بشكل غير

٣. عدد قارات العالم

بالإستعانة بخريطة العالم اجب عن الأسئلة التالية :



– سجل أسماء قارات العالم علي الخريطة التالية :

ثانيا: اذكر أسماء المسطحات المائية (المحيطات) علي سطح الأرض.

(١) (٢) (٣)

(٤) (٥)

ثالثا: أكمل العبارات التالية :

١. يفصل المحيط الأطلسي بين قارتي و من جهة وقارتي و من جهة أخرى.

٢. يفصل المحيط الهادي بين قارتي و من جهة وقارتي و من جهة أخرى.

٣. المسطح المائي الذي يفصل قارة أنتاركتيكا (القارة القطبية الجنوبية) عن باقي قارات العالم يسمى

انظر الجدول واجب عن الأسئلة التالية:

(١) رتب قارات العالم تنازليا من حيث عدد السكان:

.....

.....

(٢) ما أسم القارة الغير مأهولة بالسكان

(٣) ما أكبر قارات العالم من حيث المساحة.....

(٤) ما أصغر قارات العالم من حيث المساحة.....

(٥) حول الجدول إلي أعمدة بيانية مراعي الترتيب التنازلي لمساحة القارات.

القارات	المساحة (كم ^٢)
أمريكا الشمالية	٢٤,٢٤٠,٠٠٠
أمريكا الجنوبية	١٧,٨١٧,٠٠٠
أوروبا	١٠,٥٣٤,٠٠٠
آسيا	٤٤,٣٩٠,٠٠٠
أفريقيا	٣٠,٣١٣,٠٠٠
أستراليا	٩,٥١٠,٠٠٠
القارة القطبية الجنوبية	١٤,٠٠٠,٠٠٠



الملاح التضاريسية لقارات العالم:

أولا: قارة أمريكا الشمالية:

استعن بخريطة أمريكا الشمالية أجب عن الأسئلة التالية:

أولا: ضع الأرقام في مكانها الصحيح علي الخريطة

١ - جبال الأبالاش ٢ - السهول الوسطي.

٣ - جبال الروكي ٤ - نهر المسيسيبي.

ثانيا: ضع الرموز التالية في مكانها الصحيح علي الخريطة

(+) شبة جزيرة فلوريدا

(=) شبة جزيرة كاليفورنيا.

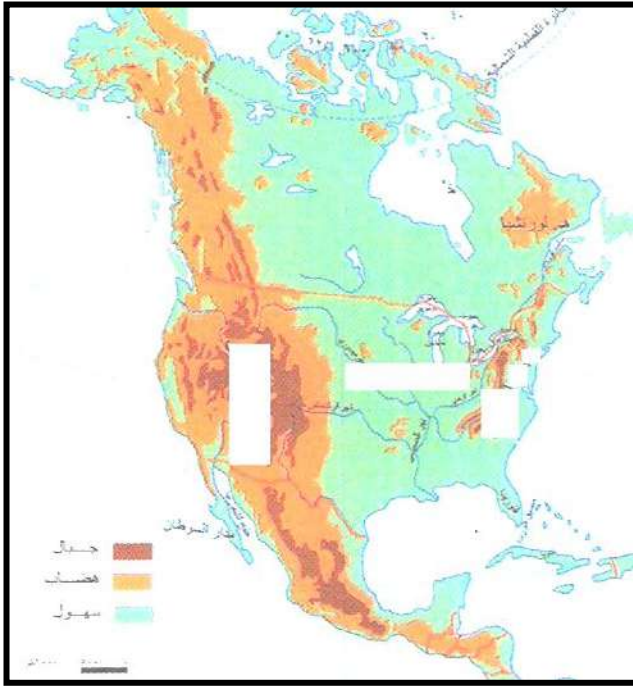
ثالثا: اكتب أسماء المحيطات في مكانها الصحيح علي

الخريطة

رابعا: حدد علي الخريطة المسطحات المائية التالية:

[خليج المكسيك - خليج هدسن - خليج لافورنيا

- البحر الكاريبي



خريطة قارة أمريكا الشمالية التضاريسية

ثانيا: تضاريس قارة أفريقيا

أولا : علي خريطة قارة افريقيا ضع الأرقام في مكانها

الأنهار: (١) نهر النيل. (٢) نهر الكونغو (زائير).

(٣) نهر النيجر . (٤) نهر الزمبيزي.

الهضاب (٥) هضبة شمال أفريقيا.

(٦) هضبة أثيوبيا (الحبشة).

(٧) هضبة جنوب أفريقيا.

(٨) هضبة البحيرات الاستوائية.

الجبال: (٩) جبال أطلس. (١٠) جبال البحر الأحمر.

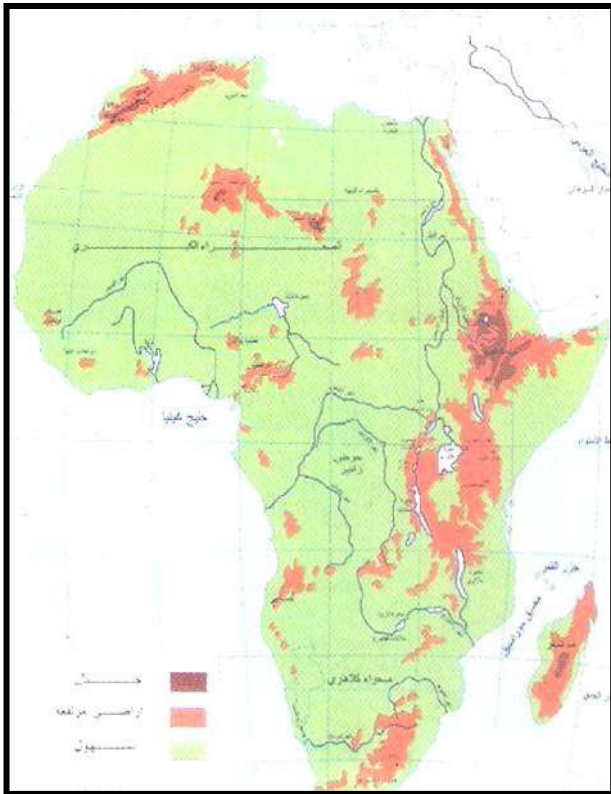
ثانيا: ضع الرموز التالية في مكانها الصحيح علي الخريطة

(\$) بحيرة فيكتوريا.

(*) جزيرة مدغشقر (ملجاش).

(+) مضيق جبل طارق.

(=) قناة السويس.



تضاريس قارة أفريقيا

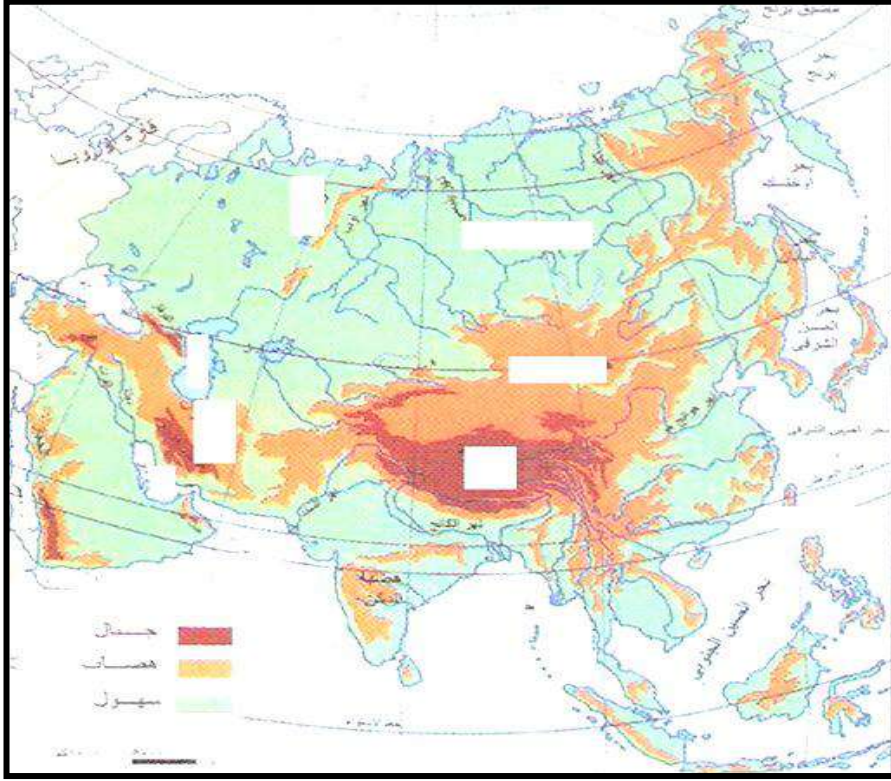
ثالثا: اكتب أسماء المسطحات المائية التالية في مكانها الصحيح علي الخريطة

[المحيط الأطلسي - المحيط الهندي - البحر المتوسط - البحر الأحمر]

ثالثا : تضاريس قارة آسيا.



أولا : علي خريطة قارة آسيا ضع الأرقام في مكانها الصحيح



الجبال: (١) جبال عسير والحجاز

(٢) جبال زاغروس

(٣) جبال جبال لهمايا.

(٤) جبال القوقاز.

(٥) جبال الأورال.

الهضاب (٦) هضبة منغوليا.

(٧) هضبة التبت (سقف العالم).

(٨) هضبة إيران.

(٩) هضبة شبه الجزيرة العربية.

(١٠) هضبة الدكن.

ثانيا : اكتب أسماء المسطحات المائية

الثالث في مكانها الصحيح علي

الخريطة.

[المحيط الهندي - المحيط الهادي -

المحيط المتجمد الشمالي - البحر

الأسود -

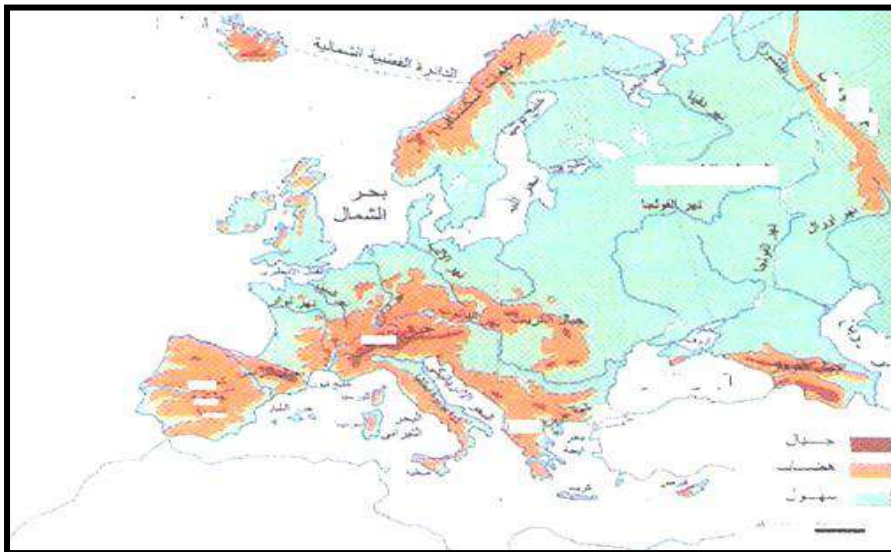
البحر الأحمر - خليج عدن - بحر العرب

- الخليج العربي - خليج البنغال]

ثالثا: ضع الرموز التالية في مكانها الصحيح علي الخريطة :

(±) بحر آرال. (⚡) سهول سيبيريا. (⬠) بحر قزوين.

(Δ) جزر اليابان. (∏) سهول دجلة والفرات. (Δ) جزر اندونيسيا.



خريطة قارة أوروبا التضاريسية

رابعا : تضاريس قارة أوروبا.

علي خريطة أوروبا الطبيعية ضع

الرموز في مكانها الصحيح علي

الخريطة:

(≠) جبال الأورال.

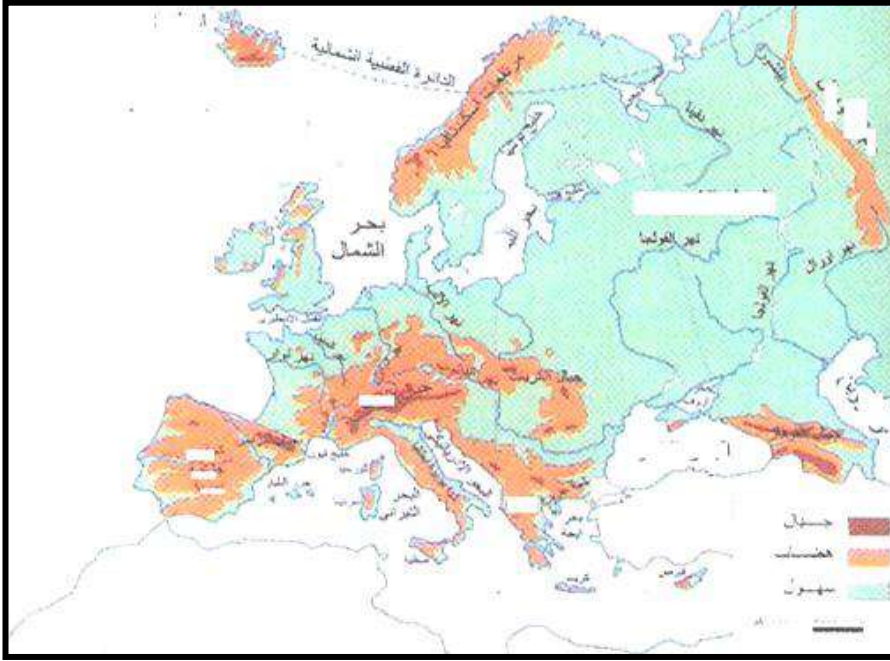
(\$) جبال الألب.

(⬠) مرتفعات أسكينديناوة.

(Δ) جبال القوقاز.

(%) جبال الكربات.

ثانيا: ضع الأرقام في مكانها الصحيح علي الخريطة



- ١) السهل الأوربي العظيم.
- ٢) نهر الفولجا.
- ٣) نهر الدانوب.
- ٤) شبة جزيرة البلقان.
- ٥) شبة جزيرة إيطاليا.
- ٦) شبة جزيرة أيبيريا.
- ٧) جزيرة آيسلندا.
- ٨) الجزر البريطانية.

ثالثا: حدد المسطحات المائية التالية وسجلها على الخريطة:

[بحر قزوين - البحر الأسود - البحر المتوسط - المحيط الأطلسي - بحر الشمال]

تضاريس قارة أوروبا التضاريسية

- بحر البلطيق -]

خامسا: تضاريس قارة أمريكا الجنوبية:

أولا : علي خريطة قارة أمريكا الجنوبية الطبيعية

ضع الأرقام في مكانها الصحيح

١. جبال الأنديز.
٢. مرتفعات البرازيل.
٣. نهر الأمازون.
٤. سهول اللانوس.
٥. سهول السلفاس.
٦. سهول البمباس.

ثانيا: حدد المسطحات المائية التالية

ثم سجلها على الخريطة

[المحيط الأطلنطي (الأطلسي) - المحيط الهادي]

سادسا : تضاريس قارة أستراليا.

اولا: علي خريطة قارة أستراليا الطبيعية ضع الأرقام

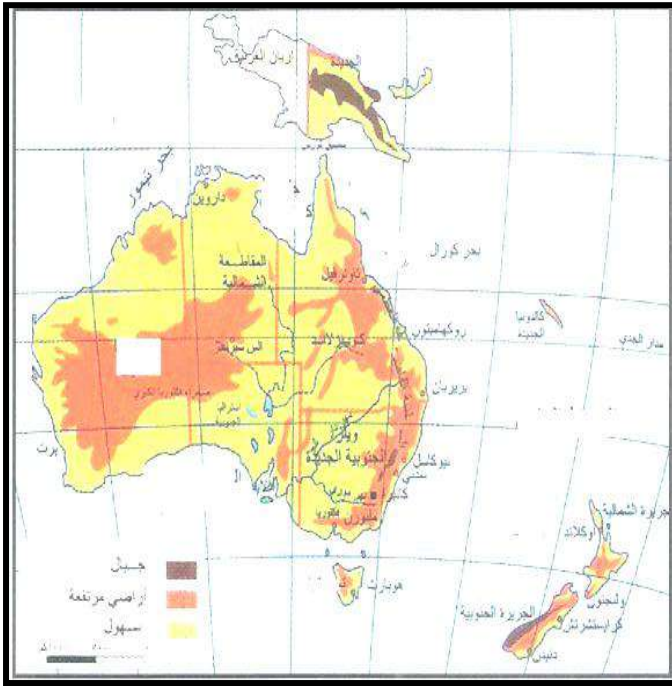
في مكانها الصحيح

١. المرتفعات الشرقية.
٢. الهضبة الغربية.
٣. نهري مري ودارلنج.

ثانيا : ضع الرموز التالية في مكانها الصحيح على الخريطة:



خريطة قارة أمريكا الجنوبية التضاريسية



- الحاجز المرجاني الكبير ويرمز له بالرمز (//////)
- جزر نيوزلندا ويرمز لها بالرمز (=)
- جزيرة تسمانيا ويرمز لها بالرمز (+)
- جزر غينيا الجديدة ويرمز لها بالرمز (#)

ثالثا: حدد ثم سجل المسطحات المائية التالية في مكانها الصحيح على الخريطة

[المحيط الهادي - المحيط الهندي - الخليج الأسترالي الكبير - خليج كوينزلاند].

أكمل العبارات التالية:

١. أكبر جزر العالم من حيث المساحة تسمى.....
٢. أصغر قارات العالم مساحة تسمى
٣. أقل قارات العالم من حيث عدد السكان

خريطة قارة أستراليا

سابعاً: القارة القطبية الجنوبية المتجمدة (أنتاركتيكا).

ضع الرموز التالية في مكانها الصحيح على الخريطة

الطبيعية لقارة أنتاركتيكا:

(⚡) المحيط الهندي.

(×) المحيط الهادي

(±) المحيط الأطلسي

(Δ) سلسلة جبال أنتاركتيكا الجنوبية

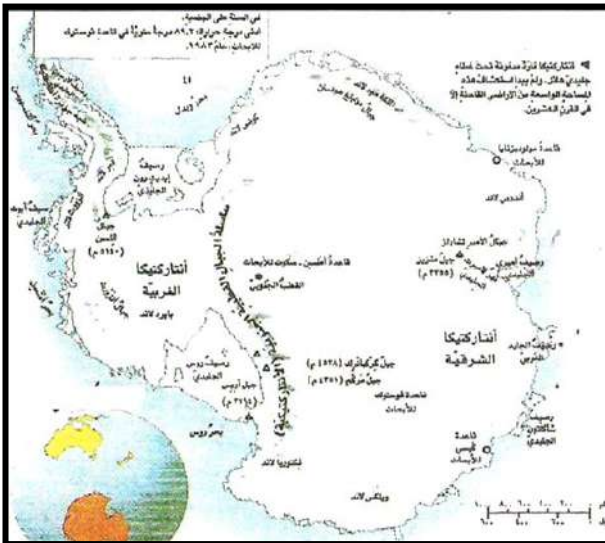
ثانياً : ضع المصطلح المناسب :

(.....) القارة المدفونة تحت غطاء جليدي هائل وبدا

في اكتشافها مطلع القرن العشرين.

علل ما يأتي :

القارة القطبية الجنوبية غير معمورة بالسكان:




أكمل العبارات التالية:

العالم القديم يشمل قارات و و

العالم الجديد يشمل قارات و و

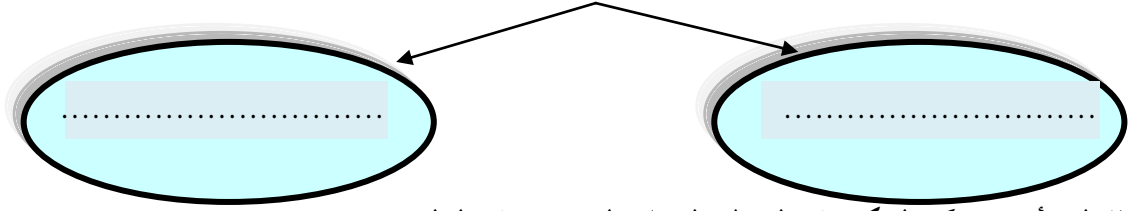
توزيع السكان في العالم

استكمل الشكل التالي:





المشكلات السكانية والاقتصادية في الدول النامية



❖ علل لما يأتي : يتركز السكان في المناطق السهلية المنخفضة في العالم ؟.

.....

❖ علل لما يأتي: يقل السكان في المناطق الجبلية في العالم ؟.

.....

❖ علل لما يأتي : يتركز السكان في المناطق المعتدلة مناخيا بالعالم ؟.

.....

علل لما يأتي : يقل السكان في المناطق المدارية الحارة والمناطق الباردة بالعالم ؟.

.....

عرف البلدان المتقدمة :

.....

عرف الدول النامية:

.....

عرف المشكلات السكانية:

.....

انظر الجداول التي أمامك ثم أجب عن الأسئلة التالية

❖ ما أكثر قارات العالم سكانا:

❖ ما أقل قارات العالم سكانا :

❖ أيهما أكثر عدد السكان في الدول النامية أم الدول المتقدمة

.....

❖ ما المقصود بالقارة الأوقيانوسية؟.

❖ حول الجداول السابقة إلى أعمدة بيانية.

أكمل العبارات التالية :

❖ تبلغ نسبة التركيز السكاني في البلدان المتقدمة بينما يبلغ

التركز السكاني في الدول النامية.....

ال	
أفريقيا	١٧, ١١ %
أمريكا الجنوبية	٦١, ٨ %
جملة القارات النامية	٦٤, ٨٢ %
جملة سكان العالم	١٠٠ %

جدول رقم (ب) النسبة المئوية للتركيز السكاني في القارات النامية

القارات	النسبة المئوية للتركيز السكاني
أوقيانوسيا	٥١, ٠ %
أوروبا	٦٨, ١١ %
أمريكا الشمالية	١٧, ٥ %
جملة القارات المتقدمة	٣٦, ١٧ %
جملة سكان العالم	١٠٠ %

جدول رقم (أ) النسبة المئوية للتركيز السكاني في القارات المتقدمة

مشكلة النمو السكاني السريع

عرف المفاهيم الجغرافية التالية:

معدل النمو السكاني:



معدل النمو الطبيعي:

معدل النمو غير الطبيعي:

العوامل الديموغرافية:

لم نفهم: اختلاف توزيع السكان من مكان إلى آخر في العالم ؟

أستكمل الشكل التالي الذي يوضح العوامل التي تتحكم في توزيع السكان في العالم

العوامل التي تتحكم في توزيع السكان في العالم

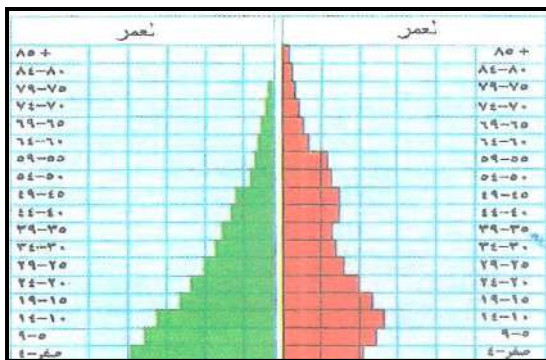
العوامل الطبيعية

العوامل الديموغرافية (السكان)

العوامل الاقتصادية

الهند

الولايات المتحدة الأمريكية



❖ انظر الشكل التالي الذي يوضح الهرم السكاني

في دولة الولايات المتحدة الأمريكية ودولة الهند واستخرج حقيقتين

■ ضع المصطلح المناسب:

(.....) انتقال السكان من مكان لآخر بشكل مؤقت أو دائم .

عرف الهرم السكاني :

اذكر النتائج المترتبة على سوء توزيع السكان والنمو السكاني السريع:

١.


٢.

٣.

أستكمل الشكل الذي يوضح النتائج المترتبة على مشكلات سوء توزيع السكان والنمو السكاني السريع



النتائج المترتبة علي المشكلات السكانية



أكمل العبارات التالية :

- (١) العلاقة بين النمو السكاني السريع ومستوي المعيشة علاقة
- (٢) تمثل الولايات المتحدة الأمريكية نموذج للدول تمثل دولة الهند نموذج للدول

(٣) ينقسم العالم إلي دول متقدمة ودول

(اختر الاجابة الصحيحة من بين البدائل)

(١) الدول التي تعاني من المشكلات الاقتصادية والاجتماعية هي:

○ الدول المتقدمة ○ الدول النامية.

(٢) إذا زادت الصادرات عن الواردات في الدولة يكون

◇ عجز في الميزان التجاري ◇ فائض في الميزان التجاري.

(٣) إذا زادت قيمة الواردات عن قيمة الصادرات في الدولة يكون

◇ عجز في الميزان التجاري ◇ فائض في الميزان التجاري.

نماذج لبعض دول العالم أ - أستراليا

أكمل العبارات التالية:

١. اصغر قارات العالم من حيث المساحة تسمى
٢. يبلغ طول سواحل أستراليا حوالي..... كم.
٣. يبلغ عدد سكان قارة أستراليا..... م نسمة.

لاحظ خريطة العالم ثم اجب عن الأسئلة التالية

- أين تقع أستراليا بالنسبة لقارة آسيا
- ما هي المسطحات المائية التي تطل عليها:
- اذكر أسماء الجزر التي تتبع قارة أستراليا:

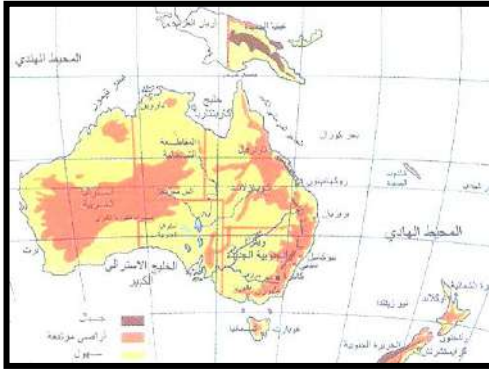
عرف المفاهيم الجغرافية التالية:

الأقيانوسية:.....

السبخة:.....

الحاجز المرجاني :

.....



أهم الملامح التضاريسية لقارة أستراليا:

أنظر خريطة قارة أستراليا التضاريسية واذكر أهم الملامح التضاريسية:

- ١-
- ٢-
- ٣-
- ٤-

ضع الأقسام التضاريسية لقارة أستراليا السابقة في مكانها الصحيح علي الخريطة



الصورة تمثل

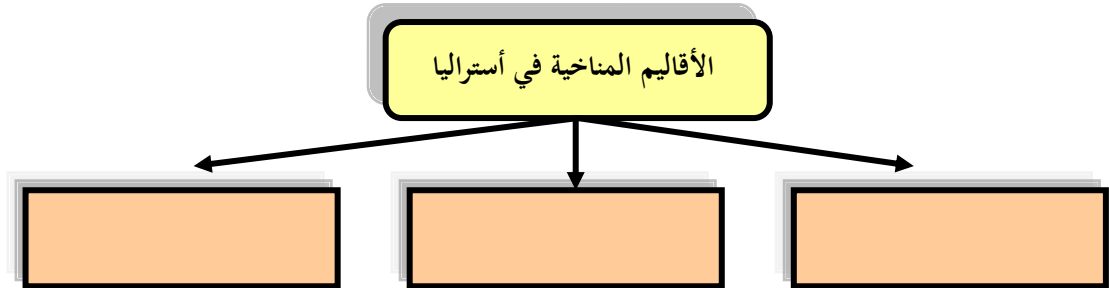
الصورة تمثل

أكمل العبارات التالية بالكلمات المناسبة:

١. سلسلة جبلية تمتد من الشمال إلى الجنوب بمحاذاة الساحل الشرقي لأستراليا تسمى
٢. أضخم صخرة في العالم ويبلغ ارتفاعها ٣٤٠ متر وهي خالية من النبات تسمى
٣. تحتل معظم مساحة غرب أستراليا ويغلب عليها الطبيعة الصحراوية وتكثر البحيرات المالحة والسبخات تسمى
٤. أكبر حاجز مرجاني في العالم يوجد في قارة تسمى

ثالثاً: المناخ

استكمل المخطط التالي الذي يوضح الأقاليم المناخية في قارة أستراليا



استكمل الجدول التالي الذي يوضح الخصائص المناخية للأقاليم المناخية في أستراليا:

م	الإقليم المناخي	الخصائص المناخية
١	مناخ التندرا	
٢	المناخ المعتدل	
٣	المناخ الصحراوي	

أكمل العبارات التالية بالكلمات المناسبة :

١. فصل الصيف في دولة الكويت يقابله في قارة أستراليا فصل



عرف الإتحاد الفيدرالي:

.....

.....

.....

٢. تقع قارة أستراليا في نصف الكرة الأرضية

٣. الأقاليم المناخية في قارة أستراليا تتميز بخاصية

اعل لما يأتي : فصل الصيف في دولة الكويت يقابله فصل الشتاء في قارة أستراليا ؟



ضع عنوان مناسب للصور التالية:

رابعاً : سكان قارة أستراليا.

أكمل العبارات التالية بالكلمات المناسبة (الكتاب المدرسي ص ٨٧).

١. السكان الأوائل في أستراليا من أصول الأروميون جاؤوا من منطقة تسمى منذ حوالي
٢. وصل السكان الأوائل من الأروميون إلى قارة أستراليا بواسطة وسيلة انتقال تسمى
٣. وصل المستوطنون الأوروبيون إلى قارة أستراليا منذ عام
٤. معظم المهاجرين الأوروبيون إلى قارة أستراليا من أصول
٥. أول مستوطنة أقامها الأوروبيون في أستراليا تسمى

■ وضح تاريخاً خطوات ظهور أستراليا كدولة واحدة.

اختر الإجابة الصحيحة من بين البدائل التالية:

(١) الدول الأوروبية التي احتلت قارة أستراليا بعد اكتشافها في العصر الحديث تسمى:

☐ فرنسا ☐ ألمانيا ☐ إنجلترا (بريطانيا) ☐ إيطاليا

(٢) المستكشف البريطاني الذي ينسب إلى الفضل في اكتشاف قارة أستراليا يسمى:

☐ جون كابوت ☐ جيمس كوك ☐ فاسكو دي جاما ☐ جاك كارتية.

(٣) تم إعلان قيام الإتحاد الفيدرالي الأسترالي تحت حماية الإمبراطورية البريطانية في عام

☐ ١٩٠١ م ☐ ١٩٠٢ م ☐ ١٩٠٣ م ☐ ١٩٠٤ م.

(٤) أستراليا أصبحت دولة مستقلة ذات سيادة في عام

☐ ١٩٤٥ م ☐ ١٩٤٤ م ☐ ١٩٤٣ م ☐ ١٩٤٢ م.



(١) الصورة تمثل (٢) الصورة تمثل (٣) الصورة تمثل

النشاط الاقتصادي في أستراليا: (الكتاب المدرسي ص ٨٧)

أذكر أهم الأنشطة الاقتصادية التي يعتمد عليها اقتصاد دولة أستراليا :

١.
٢.
٣.
٤.

■ علل : تشتهر أستراليا بإنتاج الصوف ؟.

.....

■ علل : أستراليا لديها أكبر مساحة للصيد البحري ؟.

.....

أكمل العبارات التالية:

١. أستراليا بسبب ضخامة ثروتها الرعوية تعتبر أولى دول العالم في إنتاج
٢. يزور أستراليا كل عام من السائحين عدد يقدر بحوالي..... م
٣. من أهم المحاصيل الزراعية في أستراليا و و
٤. شاركت دولة أستراليا ضمن قوات التحالف في حرب

استكمل الجدول التالي الذي يوضح الميزان التجاري لقارة أستراليا

المقارنة	الصادرات	الواردات
التعريف		
أهم السلع		

عزيزي الطالب أكتب في سطرين عن: علاقة دولة الكويت بدولة أستراليا.

.....



نماذج للدول النامية

ب- جمهورية الهند

أكمل العبارات التالية:

- حصلت الهند علي استقلالها عام
- المكتشف الأوربي الذي وصل أولا إلي الهند في نهاية القرن الخامس عشر الميلاد يسمى
- احتلت بريطانيا الهند لمدة زمنية تبلغ
- المدينة الهندية التي وصل إليها الملاح فاسكو دي جاما في ٢٠ مايو ١٤٩٨م تسمى
- على خريطة قارة أفريقيا تتبع رحلة الملاح فاسكو دي جاما للوصول إلى الهند ١٤٩٨م.
- تعاقب علي استعمار الهند الدول الأوربية التالية من الأقدم إلي الأحدث :

- O البرتغالي والهولندي والفرنسي والبريطاني
- O البرتغالي والهولندي والفرنسي
- O البريطاني والهولندي والفرنسي والبرتغالي
- O الفرنسي والهولندي والبريطاني والبرتغالي.

الصورة

(١) الموقع الجغرافي.

تمثل....

استعن بالخريطة التالية لقارة آسيا للإجابة علي

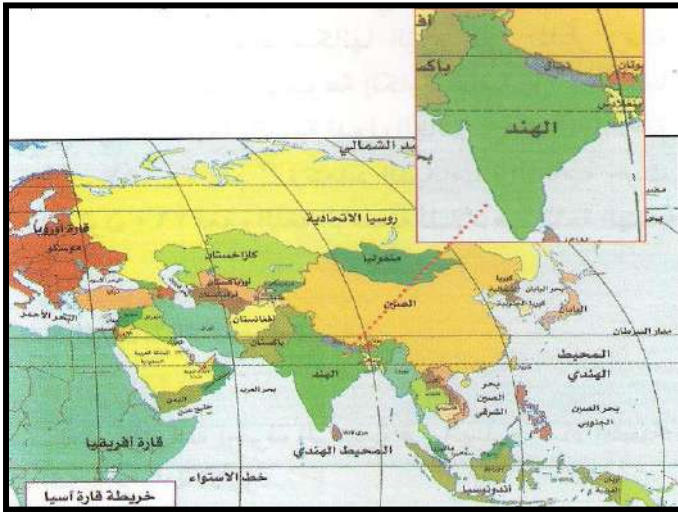
الأسئلة التالية- في أي جهة تقع الهند بالنسبة

لقترة آسيا.

- ما هي الدول المجاورة للهند ؟.

- ما أسماء المسطحات المائية التي تطل عليها الهند ؟.

- أكتب حقائق عن إجابة الأسئلة السابقة :



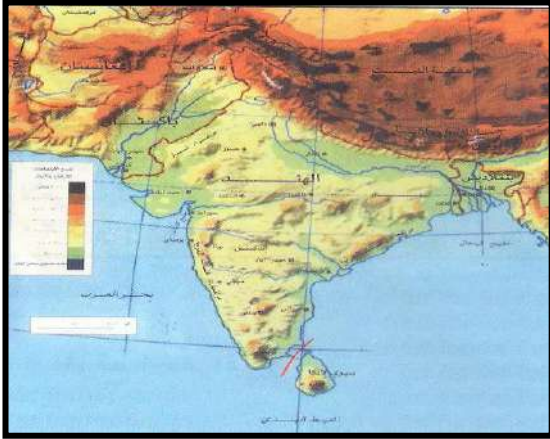
خريطة قارة آسيا السياسية وموقع الهند

- علل لما يأتي، سيطرت الدولة الاستعمارية علي الهند.

(٢) المناخ السائد في الهند:

١. تمتد أراضي الهند بين دائرتي عرض و شمالا.
٢. المناخ السائد في الهند حار ممطر صيفا ويسمي المناخ.....
٣. المناخ البارد يسود في المناطق الشمالية في الهند حيث توجد سلسلة جبال
٤. الهضبة التي تشكل معظم أراضي الهند تسمى

اذكر المناخ السائد في الهند:



(٣) أهم مظاهر السطح:

علي خريطة الهند الطبيعية ضع الأرقام في مكانها الصحيح علي الخريطة

(١) جبال الهملايا.

(٢) هضبة الدكن.

(٣) نهر الكينج.

أكمل : أعلي السلاسل الجبلية في العالم تسمى وتوجد بها

أعلي قمة جبلية في العالم وتسمى قمة جبل.....

(٤) السكان في الهند:

■ **أكمل العبارات التالية بالكلمات المناسبة :**

(١) الهند ثاني أكبر بلاد العالم من حيث عدد السكان ويبلغ عدد

السكان

(٢) تحتل الهند المرتبة السابعة من حيث المساحة وتبلغ مساحتها..... م كم ٢.

(٣) اللغات والديانات في الهند متعددة ويبلغ عدد اللغات في الهند..... واللغة الرسمية هي..... و

علل لما يأتي: تعاني دولة الهند من مشكلات سكانية ؟

(٥) النشاط الاقتصادي في الهند:

يتمثل النشاط الاقتصادي في الهند في المجالات التالية:

١ - هي الحرفة الرئيسية واساس الاقتصاد وأهم المحاصيل

٢ - تربية الحيوانات: وتربي فيها العديد من الحيوانات مثل..... و و

٣ - الثروة المعدنية: وتمتلك ثروة معدنية متنوعة مثل..... و و

٤ - الصناعة : وتشتهر بالعديد من الصناعات مثل و ، و

٥ - التجارة : ومن أهم الصادرات وتستورد

أكتب تعليق مناسب علي الصور التالية :



العلاقات بين دولتي الهند والكويت قديما:

العلاقات بين دولة الهند ودولة الكويت في الوقت الحالي (حديثا).

علي خريطة دولة الهند السياسية حدد المدن الرئيسية في الهند



■ العاصمة تسمى

■ المدن الصناعية الكبرى

نماذج للدول المتقدمة (ج) اليابان

أولا: الطوقع الجغرافي:

لاحظ خريطة آسيا السياسية التي أمامك وأجب عن الأسئلة التالية:

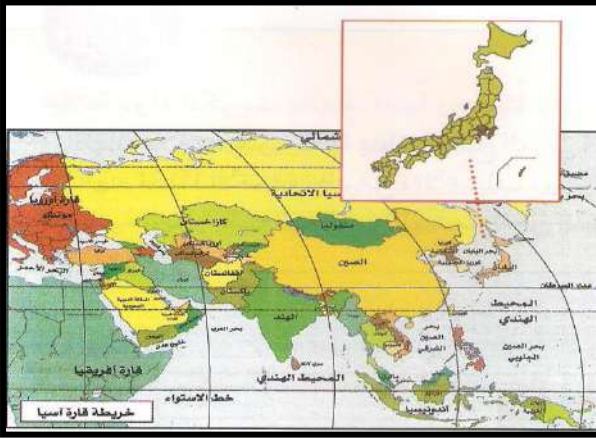
■ هل اليابان دولة قارية أم بحرية ؟ ولماذا .

■ أين تقع اليابان بالنسبة لقارة آسيا؟

■ ما الدول القريبة من اليابان؟

■ أذكر الجزر الأربع الرئيسية في اليابان ؟

■ أكتب حقيقتان من خلال الإجابة علي الأسئلة السابقة:



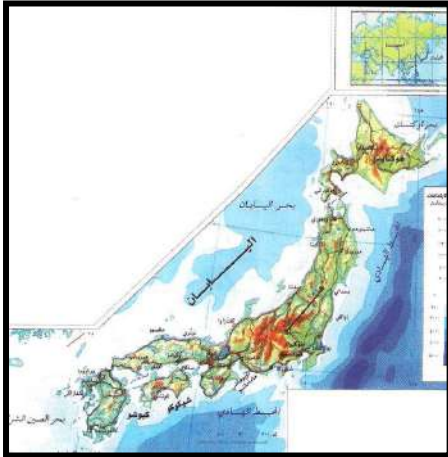
ثانيا: المناخ.

أكمل : تمتد أراضي اليابان في الأقاليم المعتدلة الدفيئة والباردة بين دائرتي عرض و شمالا.

علل: تساقط الثلوج وانخفاض درجة الحرارة في شمال اليابان (جزيرة هوكايدو) ؟

ثالثا: أهم مظاهر السطح.

أكمل العبارات التالية بالاستعانة بالخريطة



١. المساحة الجبلية من المساحة الكلية للبلاد تمثل من مساحة اليابان حوالي

٢. نظرا لنقص المساحة الزراعية حول اليابانيون الجبال إلي

٣. تقع اليابان في منطقة بركانية بالمحيط الهادي تسمى

٤. تتعرض اليابان لموجات محيطية مدمرة يطلق عليها

٥. تتكون اليابان من مجموعة من الجزر يبلغ عددها

٦. الجزر الرئيسية في اليابان عددها وهي و

اذكر خصائص سواحل اليابان ؟

ضع المصطلح الجغرافي المناسب أمام العبارات التالية

- (موجات محيطية مدمرة تصيب اليابان بسبب وقوعها ضمن الحلقة النارية في المحيط الهادي.
- (زلازل مدمرة وبراكين ثائرة تقع في المحيط الهادي

رابعاً: السكان

- بلغ عدد السكان في اليابان وبلغت مساحتها م كم ٢.

علل : ارتفاع الكثافة السكانية في اليابان ؟

وضح كيف تغلب الشعب الياباني علي الشكل المطشيت لدولتهم (أربعة آلاف جزيرة).

خامساً: النشاط الاقتصادي.

وضح كيف استفاد اليابانيون من نقص الأراضي الزراعي في بلادهم ؟

عرف الأسطول:

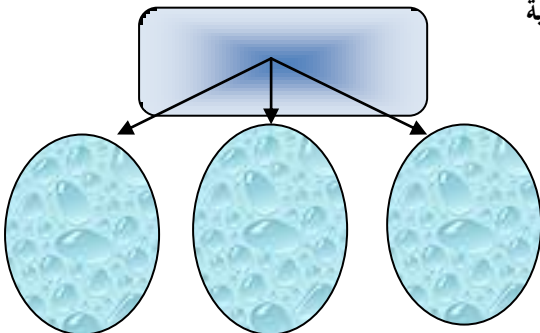
عرف المادة الخام:

علل: زراعة اليابانيون الأرز في جزيرة هوكايدو في الشمال البارد ؟

علل: اليابان من الدول الرئيسية في العالم في صيد الأسماك ؟

بم تفسر: تستورد اليابان كميات هائلة من المواد الخام المعدنية والبتترول ؟

بم تفسر : أهمية الأساطيل التجارية الضخمة لدولة اليابان ؟



استكمل الشكل السابق للصناعات اليابانية

اليابانية



علي خريطة اليابان السياسية أذكر المدن الصناعية الكبرى في اليابان



ضع دائرة حول عاصمة اليابان وأذكر اسم عاصمة اليابان
عدد أهم السلع والمنتجات اليابانية في دولة الكويت؟

١. ٢-

٣ - ٤-

لخص جهود الشعب الياباني في التغلب على
العقبات والمشكلات الطبيعية :

عرف وسائل الإتصال:

عرف الأقمار الصناعية:

وسائل الاتصال المعاصرة:

أذكر وسائل الاتصال التي استخدمها الإنسان قديما لنقل المعلومات

ما هي وسائل الاتصال التي اخترعها الإنسان في القرنين الأخيرين ؟

أكمل العبارات التالية

١. أدى تطور مجالات الاتصالات في عالمنا خلال العقود الأخيرة إلي إطلاق لفظ ...

٢. الجهاز الذي اخترع في القرن التاسع عشر وأدي لتطور وسائل الاتصالات.....

٣. المخترع الذي اخترع الهاتف يسمى.....

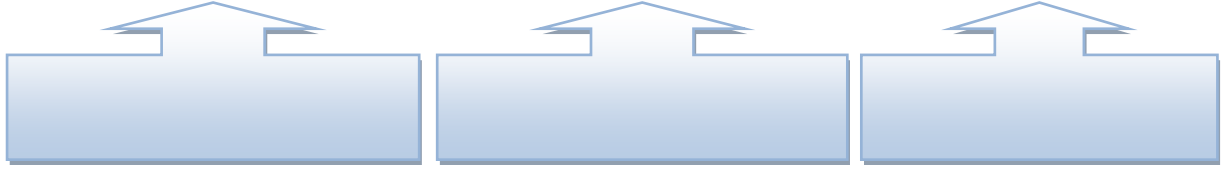
٤. الجهاز الذي جعل العالم يبدو أصغر حجما يسمى.....

عزيزي الطالب ضع تعليق مناسب على الصور التالية:

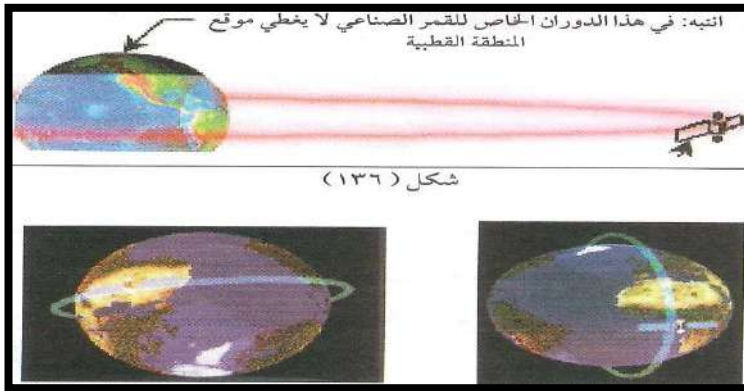




استكمل المخطط التالي:

الأقمار الصناعية حسب المدار الذي تسلكه



بالإستعانة بالمخطط السابق أذكر أنواع الأقمار الصناعية علي الصور التالية



أنظر الأشكال التالية ثم اجب عن الأسئلة

مميزات القمر الصناعي في الشكل (١٣٦):

مميزات القمر الصناعي في الشكل (١٣٧):

عيوب القمر الصناعي في الشكل (١٣٨):

اذكر أهم المجالات التي تستخدم فيها الأقمار الصناعية:


الحاسوب والإنترنت

**أكمل: أعظم اختراع عرفته البشرية منذ فجر التاريخ يسمى.....
بم تفسر: أهمية جهاز الحاسوب؟**

أذكر أهم وظائف ومهام جهاز الحاسوب؟

بم تفسر: أهمية الإنترنت في العالم حالياً؟

برهن على صحة العبارة التالية [للشعب الياباني دور كبير في إعادة بناء دولتهم].



عرف الحاسوب :

عرف الإنترنت:

